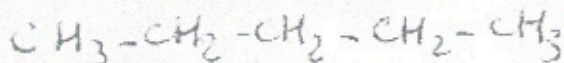



Exercices :

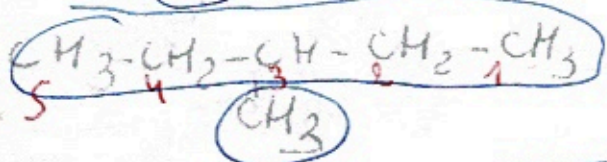
1. Attribuer un nom aux molécules suivantes :



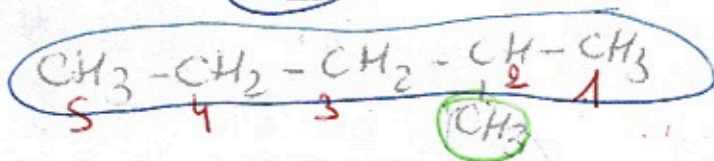
m-pentane



méthylbutane



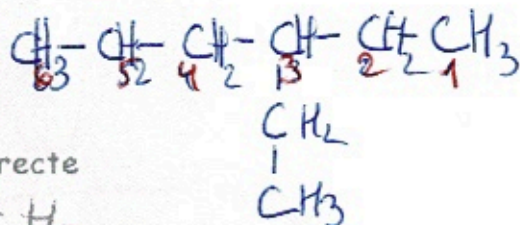
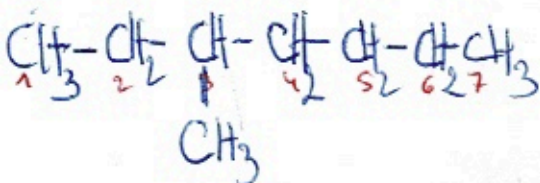
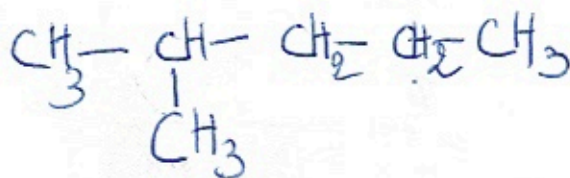
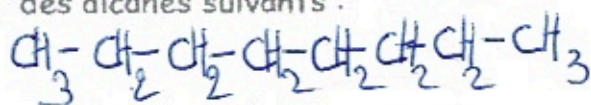
3-méthylpentane



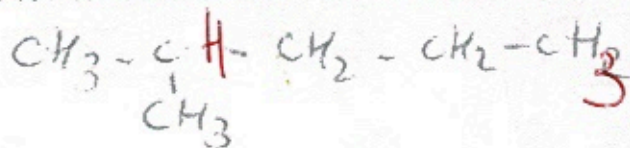
2-méthylpentane

2. Ecrire les formes semi-développées des alcanes suivants :

- n-octane
- 2-méthylpentane
- 3-méthylheptane
- 3-éthylhexane



3. Retrouve les erreurs et écrit la formule correcte



4. pour les formules de la page 10.

- Ajoute les H
- Ecris la formule brute
- Indique d'un trait continu de couleur la chaîne la plus longue
- Entoure les ramifications et numérote les carbones de la chaîne principale
- Trouve le nom précis de chaque molécule
- Repère parmi ces molécules les isomères les unes des autres.